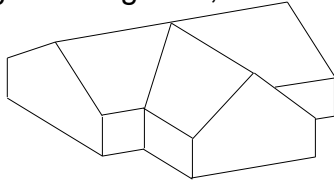


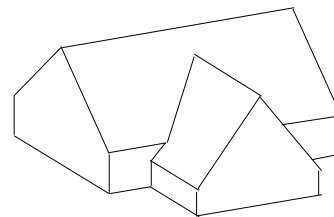
UDMIDLINGER

Indtegn målelinier til hvert enkelt profil som vist på hus A

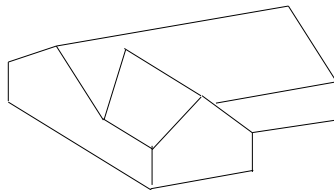
Hus A: tegn profilerne  
taghældning 1 : 1,5



Hus C: tegn profilerne  
taghældninger :  
hovedtag : 45°  
tilbygning : 3:4



Hus B: tegn profilerne  
taghældning 1 : 1,5



Beregn længden af spærene og kellinierne i alle 3 huse – og kontroller om målene passer  
Resultaterne skal være med 3 decimaler (mellemregninger med 4 decimaler)

Mål i meter

